

Les opérations-mystères

- Chaque symbole correspond toujours au même chiffre.







$$\begin{array}{r}
 1 \\
 3 \text{ } \text{○} \\
 + 1 \text{ } \text{○} \\
 \hline
 \text{■} \ 6
 \end{array}$$

$$\begin{array}{r}
 1 \\
 2 \text{ } \text{◇} \\
 + \text{○} \text{ } \text{◇} \\
 + \text{○} \text{ } \text{◇} \\
 \hline
 9 \ 2
 \end{array}$$

$$\begin{array}{r}
 \text{■} \ \text{■} \\
 + 1 \text{ } \text{○} \ \text{◇} \\
 \hline
 1 \text{ } \text{○} \ \text{▲}
 \end{array}$$

$$\begin{array}{r}
 1 \text{ } \text{○} \ \text{■} \\
 + \text{ } \text{▲} \ \text{○} \\
 \hline
 1 \ \text{■} \ \text{▲}
 \end{array}$$

- À quel chiffre chaque signe correspond-il ?

						
...

Les carrés magiques !

- Complète les cases des carrés magiques.

...	...	2	↗ 9
...	3	2	→ 9
4	0	...	→ 9
↓ 9	↓ 9	↓ 9	

↖ 24	↖ 24	↖ 24	↖ 24
...	8	...	→ 24
14	→ 24
5	...	11	→ 24