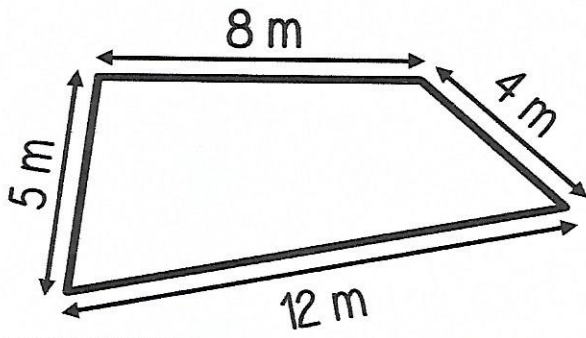


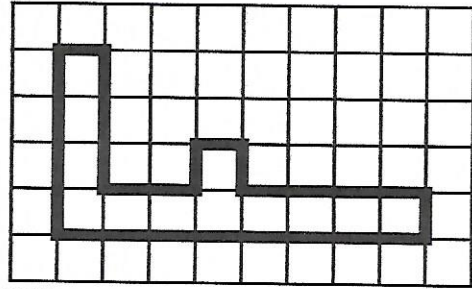
Figure n° 4



P = \_\_\_\_\_

P = \_\_\_\_\_ m

Figure n° 5




P = \_\_\_\_\_

P = \_\_\_\_\_ carreaux

A+

Calculer le périmètre d'un polygone.



Exercice n° 2

Trace les figures demandées.

Un carré  
qui a un périmètre de 20 carreaux

Un rectangle  
qui a un périmètre de 30 carreaux

