

Je fais le point

Nom _____

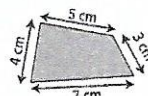
Prénom _____

Date ____/____/____

Le périmètre d'un polygone

Je retiens

- La **longueur du contour** d'une figure s'appelle le **périmètre**.
- On calcule le périmètre d'un polygone en **additionnant** la longueur de **tous ses côtés**.




$$P = 4 + 5 + 3 + 7 = 19$$

Le périmètre de ce polygone est de 19 cm.

Exercice n° 1

Calcule le périmètre de ces polygones.

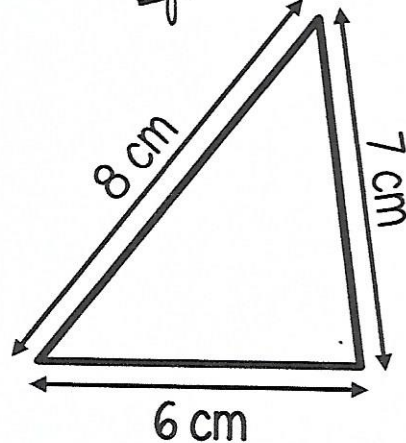
Figure n° 1



P = _____

P = _____ carreaux


Figure n° 2



P = _____

P = _____ cm

Figure n° 3



P = _____

P = _____ carreaux