
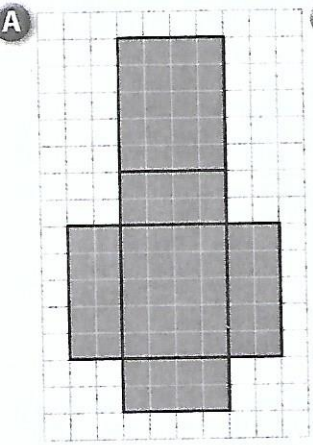


J'applique

Pour les exercices **A** et **B**, reproduis le patron donné, puis construis le pavé droit correspondant.



8 PROBLÈME 1) a) Sur une feuille à petits carreaux, reproduis en vraie grandeur cette figure.

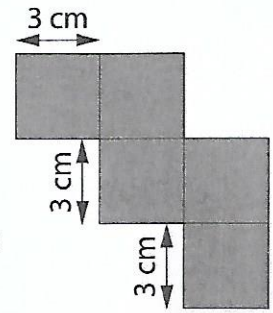
b) Découpe-la.

2) a) Trace un carré de côté 3 cm.

b) Découpe-le.

3) À l'aide de ruban adhésif, colle ce carré pour obtenir un patron de cube.

4) Construis ce cube.



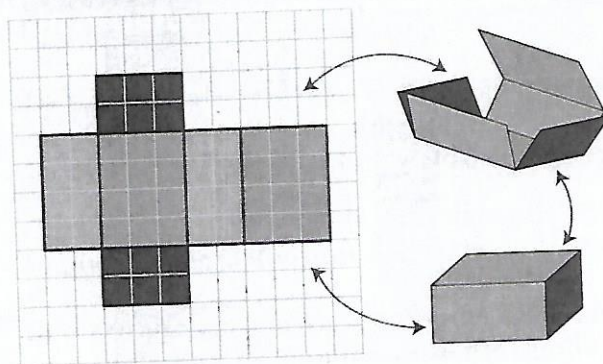
167



Je retiens

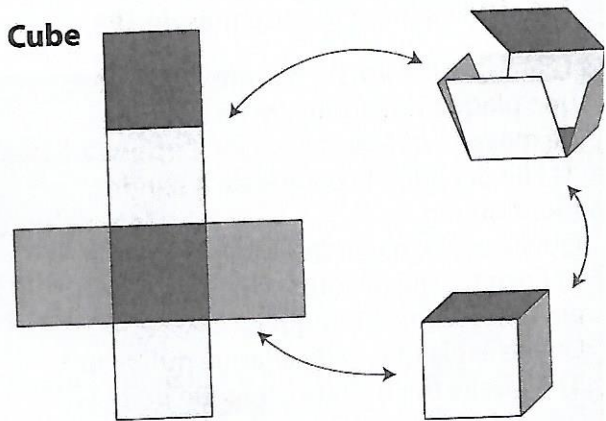
Un patron permet de **construire un solide** après découpage et pliage.

Pavé droit



Les faces opposées d'un pavé droit sont des rectangles identiques.

Cube



Les 6 faces d'un cube sont des carrés identiques.

166