


## Exercices Mesure : les masses


-Voici les masses marquées pour les exercices 5 et 9.




**5** Dessine les masses marquées nécessaires pour équilibrer les plateaux de la balance.



Le paquet de riz pèse 725 g.




La casserole pèse 2 kg et 50 g.




Le pot de fleurs pèse 573 g.


**6** Relie chaque élément à la masse qui convient.



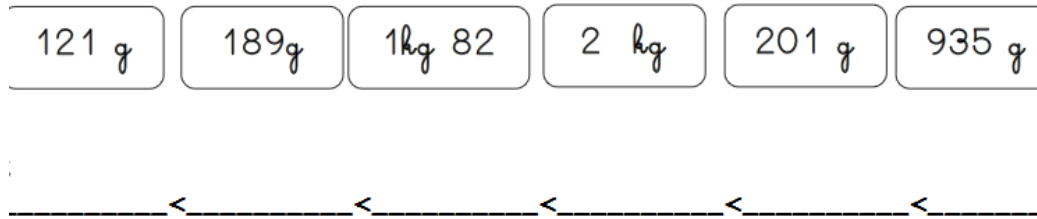
- 250 g •
- 4000 kg •
- 50 g •
- 3 kg •



**7.** Colorie les masses nécessaires.



**8.** Classe ces masses de la plus légère à la plus lourde .



**9.** Dessine les masses marquées pour équilibrer les plateaux.

