

Devinettes: trouve le sens figuré des images:



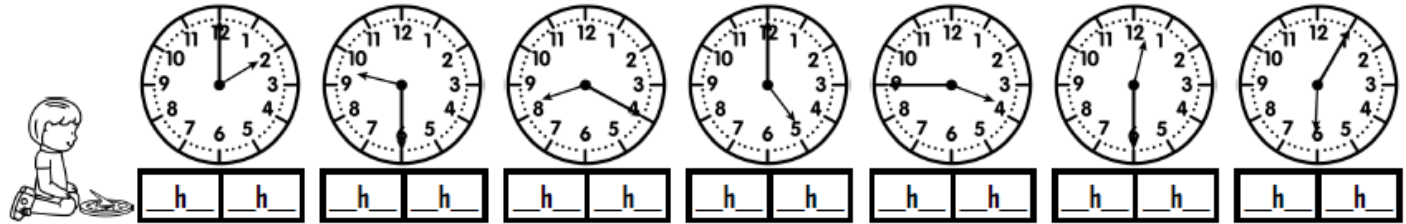
1 Dessine ces expressions au sens propre, puis au sens figuré pour montrer ce qu'elles signifient.

Pleuvoir des cordes		Tomber dans les pommes	
Sens propre	Sens figuré	Sens propre	Sens figuré

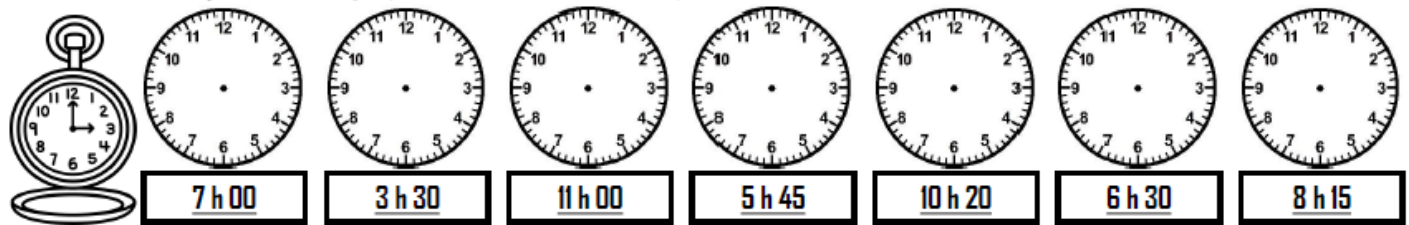
2 Relie ces expressions à leur sens.

- | | | | | |
|---------------------|---|---------------|---|--------------------------|
| brûler d'impatience | • | • Sens propre | • | • se laver avec un savon |
| un chat errant | • | | | • dévorer des livres |
| dévorer un sandwich | • | • Sens figuré | • | • brûler du bois |
| passer un savon | • | | | • un chat dans la gorge |

1 Écris l'heure sous chaque horloge.



2 Trace les aiguilles (rouge pour les heures, bleu pour les minutes).




3 Résous ce problème

Ce matin, Jonas est parti en randonnée avec ses parents à 14h20. Ils sont rentrés chez eux à 17h40. Combien de temps leur randonnée a-t-elle duré ?



10 * Combien de temps la randonnée a-t-elle duré ?



Départ : 8 h 20

Arrivée : 10 h 40

Calcul mental: complète le plus vite possible

1	<p><u>Complète.</u></p> <p> $2 \times 5 =$ $3 \times 5 =$ $9 \times 5 =$ $8 \times 5 =$ $5 \times 5 =$ $1 \times 5 =$ $10 \times 5 =$ $7 \times 5 =$ $6 \times 5 =$ $4 \times 5 =$ </p>	/5
2	<p><u>Complète les suites.</u></p> <p> $27 + 9 =$ $79 + 9 =$ $65 + 11 =$ $34 + 9 =$ $82 + 11 =$ </p>	/5
3	<p><u>Complète.</u></p> <p> $3 \times 8 =$ $3 \times 1 =$ $3 \times 6 =$ $3 \times 5 =$ $3 \times 9 =$ $3 \times 3 =$ $3 \times 2 =$ $3 \times 7 =$ $3 \times 4 =$ $3 \times 10 =$ </p>	/5