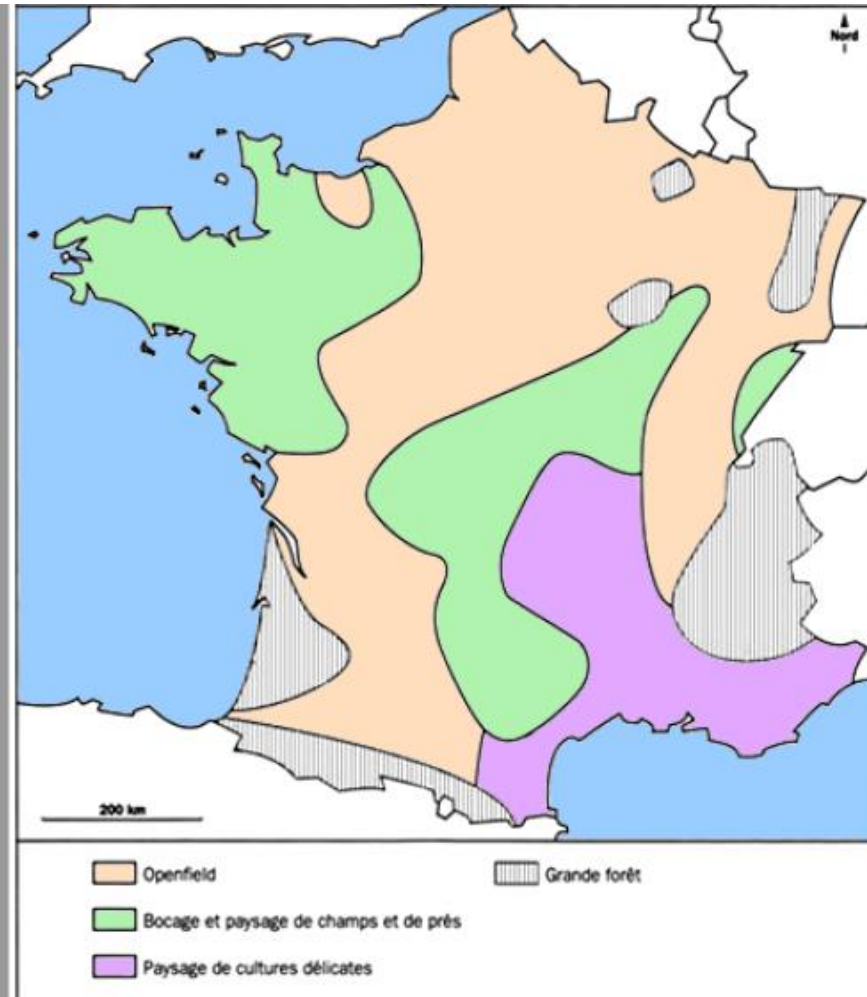



# Leçon 3: La répartition du paysage agricole en France



céréales



fruits (vignes ou vergers)



bétail

## LES CAMPAGNES DANS LE MONDE

### Le peuplement



→ On trouve des campagnes très peuplées, par exemple en Asie

→ On trouve des campagnes peu peuplées ou pas du tout peuplées, par exemple en Afrique

### Les paysages et les activités

○ ce que l'on peut voir dans les campagnes en France

○ ce que l'on peut voir dans les campagnes ailleurs dans le monde



**Pour commencer**

Observe ces mots et classe-les en cinq colonnes.  
Fais attention aux c et aux ç.

- un Français
- vous avaniez
- ça
- une limace
- je suis déçu
- merci
- ils reçoivent
- j'ai aperçu
- de la ficelle
- nous nous balançons
- nous recevons
- un maçon
- un remplaçant
- j'ai reçu
- nous grimacions

ça : un Français - ça - un remplaçant  
 çu : j'ai aperçu - j'ai reçu - je suis déçu  
 çer : un maçon - ils reçoivent - nous nous balançons  
 ci : merci - nous grimacions - vous avaniez  
 ce : nous recevons - une limace - de la ficelle

Problème :

Solution :

①  $35 \times 12 = 420$

Il y a 420 places par étage

Calcul

$$\begin{array}{r} 35 \\ \times 12 \\ \hline 70 \\ 350 \\ \hline 420 \end{array}$$

②  $420 \times 4 = 1680$

Il y a 1680 places au total dans le parking.

$$\begin{array}{r} 420 \\ \times 4 \\ \hline 1680 \end{array}$$

**Pour commencer**

Observe ces mots et classe-les en cinq colonnes.  
Fais attention aux c et aux ç.

Comprends-tu quand il faut utiliser c ou ç?

- un Français
- vous avaniez
- ça
- une limace
- je suis déçu
- merci
- ils reçoivent
- j'ai aperçu
- de la ficelle
- nous nous balançons
- nous recevons
- un maçon
- un remplaçant
- j'ai reçu
- nous grimacions

C OU Ç

Dans le ①, observe le mot dans l'étiquette beige, puis écris les mots gris en les complétant avec c ou ç.  
 Dans le ②, écris les mots en gris en les complétant avec c ou ç.

①

il me remplac**e** remplace

un remp**ç** remplace

nous nous remp**ç** replaçons

②

la porte qu**ç** qu'on

ça qu**e** qu'on

un qu**ç** qu'on

nous qu**ç** qu'on

Le mat**ç** des mat**ç** mat**ç** par pl**ç** un sac de pl**ç** autour de la chemise du petit qu**ç** fait mal ! dit celui-ci en qu**ç** lui qu**ç** qu'il avait qu**ç** une entorse.

③

la porte qu**ç** qu'on

ça qu**e** qu'on

un qu**ç** qu'on

nous qu**ç** qu'on

Le mat**ç**, nous avons un remp**ç**.  
 Il remp**ç** même remp**ç**, notre remp**ç**.  
remp**ç** la remp**ç** de remp**ç** pendant que  
remp**ç** fait des remp**ç** on remp**ç** le tableau.  
 Le remp**ç** remp**ç** : « Retournons  
 à ta remp**ç**, et on remp**ç** ! » dit-il, très remp**ç**.



**Il comprend**

Dans une journée, il y a 24 heures :  
 • de minuit à midi (de 0h à 12h), c'est le matin ;  
 • de midi à minuit (de 12h à 24h), c'est l'après-midi ou le soir.

1 heure = 60 minutes

Quand il est 3h 40, il manque 20 minutes pour arriver à 4h.

On dit aussi qu'il est 4h moins 20.

① Recopie les étiquettes qui indiquent la même heure que l'horloge : il peut y avoir plusieurs bonnes réponses.

A 15 h

B 11 heures et quart

C 15 h 30

D 3 heures et demie

E 3 heures moins le quart

F 11 h 15

G 3 h 30

H 2 h 45

I 14 h 15

② Sur ton cahier, écris les heures indiquées par chaque horloge, comme dans l'exemple.

|            |      |                |                |                |
|------------|------|----------------|----------------|----------------|
| matin      | 2 h  | A  11 h 30 min | B  1 h 15 min  | C  7 h 45 min  |
| après-midi | 14 h | D  23 h 30 min | E  13 h 15 min | F  19 h 45 min |

③ Reprends ces horloges et dessine les aiguilles (l'aiguille des heures en rouge, l'aiguille des minutes en noir).

A 08 : 30

B 07 : 10

C 18 : 25

D 17 : 45

④ Recopie et complète les phrases comme dans l'exemple.

Il est 1 h 50 : il manque 10 minutes pour arriver à 2 h.  
 On dit aussi qu'il est 2 h moins 10.

Il est 6 h 55 : il manque 5 minutes pour arriver à 7 h.  
 On dit aussi qu'il est 7 h moins 5.

Il est 10 h 35 : il manque 25 minutes pour arriver à 11 h.  
 On dit aussi qu'il est 11 h moins 25.