

Je fais le point

Nom _____

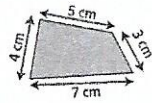
Prénom _____

Date / /

Le périmètre d'un polygone

Je retiens

- La longueur du contour d'une figure s'appelle le périmètre.
- On calcule le périmètre d'un polygone en additionnant la longueur de tous ses côtés.




$$P = 4 + 5 + 3 + 7 = 19$$

Le périmètre de ce polygone est de 19 cm.

Exercice n° 1

Calcule le périmètre de ces polygones.

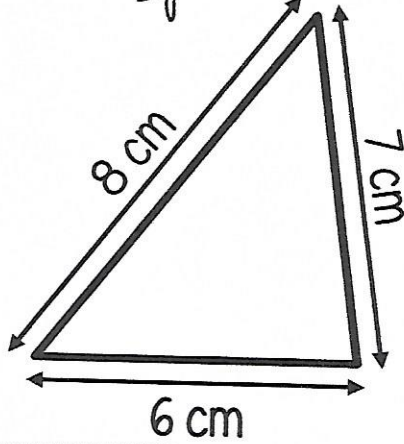
Figure n° 1



$$P = 3 + 2 + 2 + 2 + 1 + 4$$

$$P = 14 \text{ carreaux}$$


Figure n° 2



$$P = 8 + 7 + 6$$

$$P = 21 \text{ cm}$$

Figure n° 3



$$P = 7 + 2 + 5 + 2 + 3 + 2 + 3 + 2 + 5 + 2 + 7$$

$$P = 50 \text{ carreaux}$$